

# ДНЕВНИК юного путешественника



## МАРШРУТНЫЙ ЛИСТ участника экскурсии «По святым местам земли Белгородской»

\_\_\_\_\_

Фамилия, Имя

\_\_\_\_\_


класс, место учёбы

Населённые пункты маршрута		Задания на маршруте, отметка о выполнении (рефлексия)			
1 день	г. Белгород	1. Определение формы храмов <input type="radio"/>	2. Кроссворд «Святитель Иоасаф» <input type="radio"/>	Фотографии, селфи на маршруте <input type="radio"/>	
	п. Дубовое (Белгородский район)	3. Практическое задание, ориентирование на местности <input type="radio"/>	4. Загадки «Растительный мир» <input type="radio"/>	Фотографии, селфи на маршруте <input type="radio"/>	
	п. Ракитное (Ракитянский район)	5. Краеведческий тест <input type="radio"/>	6. Краеведческое ЛОТО <input type="radio"/>	Фотографии, селфи на маршруте <input type="radio"/>	
2 день	с. Холки (Чернянский район)	7. Определение объектов Холковского Монастыря <input type="radio"/>	8. Ребусы <input type="radio"/>	Фотографии, селфи на маршруте <input type="radio"/>	
	г. Короча (Корочанский район)	9. Викторина «Верю – не верю» <input type="radio"/>	10. Вставь пропущенные слова <input type="radio"/>	Фотографии, селфи на маршруте <input type="radio"/>	
3 день	с. Сухарево (Валуйский район)	11. Установи соответствие <input type="radio"/>	12. Определение частей храма <input type="radio"/>	Фотографии, селфи на маршруте <input type="radio"/>	


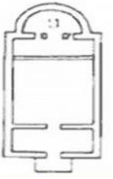
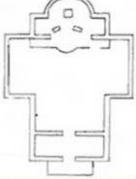
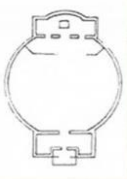
Примечание: 1. В таблице, после каждого задания, допиши знак (+ или -), подтверждающий или отрицающий твоё участие.  
2. Определи своё отношение к выполненному заданию, дорисовав соответствующий «смайлик» на каждой странице (понравилось/не понравилось; справился/не справился)

## ЗАДАНИЕ №1

Определи формы храмов, используя подсказку (г. Белгород)




<i>Название храма</i>	<i>Форма храма</i>
Крестовоздвиженский храм	
Храм в честь иконы Божией Матери «Спорительница хлебов»	
Духовно-просветительский центр во имя Святителя Иоасафа епископа Белгородского Чудотворца	
Преображенский кафедральный собор	

<i>Звезда</i>	<i>Корабль</i>	<i>Крест</i>	<i>круг</i>
			

## ЗАДАНИЕ №2

Кроссворд «Святитель Иоасаф, епископ Белгородский»

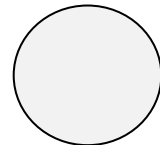


					1			<b>И</b>												
						2		<b>О</b>												
					3			<b>А</b>												
					4			<b>С</b>												
	5							<b>А</b>												
					6			<b>Ф</b>												

1. Как называется город, в котором родился Святитель Иоасаф?
2. Какого знатного рода была семья Иоасафа?
3. Каким именем нарекли Иоасафа при рождении?
4. Как называется Чудотворная икона Божьей Матери, которая пришла Святителю Иоасафу во сне?
5. В каком соборе находятся мощи Святителя Иоасафа?
6. Как в православии называется главный собор епархии?

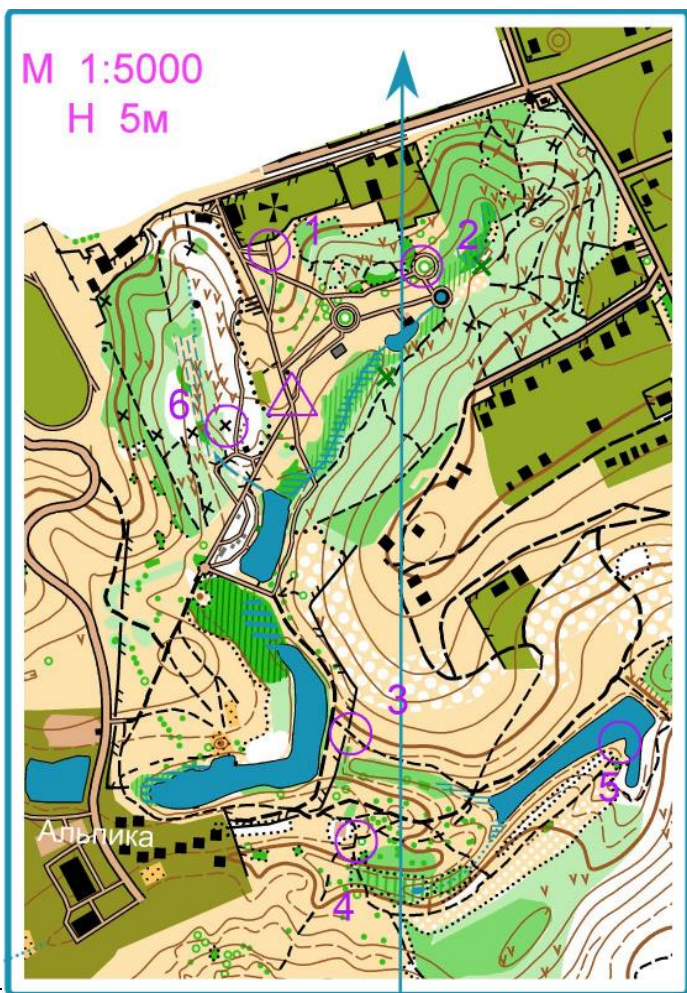
# ЗАДАНИЕ №3 (А)

## Изучи условные знаки




*Условные знаки спортивных карт*

<p><b>РЕЛЬЕФ</b></p> <ul style="list-style-type: none"> <li> Уголщенная горизонталь</li> <li> Основная горизонталь</li> <li> Вспомогательная горизонталь</li> <li> Обрыв грунтовой</li> <li> Насыпь высокая</li> <li> низкая</li> <li> Промоина большая, маленькая</li> <li> Яма</li> <li> Гора</li> <li> Лощина</li> <li> Ребро, нос</li> <li> Сухая канава</li> <li> Микробугорок</li> <li> Внешмасштабная ямка</li> <li> Микроямка, воронка</li> <li> Клонир</li> <li> Неровная земля</li> <li> Особый объект рельефа</li> </ul> <p><b>СКАЛЫ И КАМНИ</b></p> <ul style="list-style-type: none"> <li> Непроходимая скальная стена пещера</li> <li> Проходимая скальная стена</li> <li> Скальная яма</li> <li> Камень</li> <li> Большой камень</li> <li> Группа камней</li> <li> Россыпь камней</li> <li> Каменное поле</li> <li> Открытая лесная поверхность</li> <li> Голые плоские скалы</li> </ul>	<p><b>ГИДРОГРАФИЯ</b></p> <ul style="list-style-type: none"> <li> Озеро, пруд</li> <li> Непроходимая река, ручей</li> <li> Проходимые река, ручей</li> <li> Канава, мостик</li> <li> Исчезающая канава</li> <li> Узкое болото</li> <li> Непроходимое болото</li> <li> Проходимое болото</li> <li> Заболоченность</li> <li> Воронка с водой</li> <li> Колодец</li> <li> Ключ, источник</li> <li> Особый объект гидрографии</li> </ul> <p><b>РАСТИТЕЛЬНОСТЬ</b></p> <ul style="list-style-type: none"> <li> Открытое пространство (граница возделываемых земель)</li> <li> Поляна (чёткий контур)</li> <li> неудобное для бега</li> <li> Полуоткрытое пространство удобное для бега</li> <li> Среднепробегаемый лес</li> <li> Средн. растительность (низкая) с хорошей видимостью</li> <li> Труднопробегаемый лес</li> <li> Трудн. растительность (низкая) с хорошей видимостью; бурелом</li> <li> Непроходимый лес</li> <li> Лес, легко проходимый в одном направлении (лесопосадки)</li> <li> Фруктовый сад</li> <li> Культивируемые земли</li> <li> Отдельно стоящее дерево</li> <li> Особый объект растительности</li> </ul>	<p><b>ИСКУССТВЕНН. СООРУЖЕНИЯ</b></p> <ul style="list-style-type: none"> <li> Шоссе, асфальт</li> <li> Улучшенная дорога</li> <li> Полевая, лесная дорога</li> <li> Тропа широкая</li> <li> Тропинка</li> <li> Исчезающая тропинка</li> <li> Просека</li> <li> Железная дорога</li> <li> Линия электропередач</li> <li> Высокочлвн. ЛЭП</li> <li> Каменная стена</li> <li> Разрушенная каменная стена</li> <li> Высокая каменная стена</li> <li> Проходимая ограда</li> <li> Разрушенная ограда</li> <li> Непроходимая ограда</li> <li> Постройка, здание</li> <li> Населенный пункт</li> <li> Запрещённая территория</li> <li> Руины, фундамент</li> <li> Стрельбище</li> <li> Могила</li> <li> Проходимый трубопровод</li> <li> Непроходимый трубопровод</li> <li> Башня</li> <li> Вышка</li> <li> Столб</li> <li> Кормушка</li> <li> Особый искусственный объект</li> </ul>	<p><b>ОБОЗНАЧЕНИЯ ДИСТАНЦИИ</b></p> <ul style="list-style-type: none"> <li> Начало ориентирования, пункт "К"</li> <li> Контрольный пункт</li> <li> Маркированный участок, обязательный для прохождения</li> <li> Финиш</li> <li> Переход, проход</li> <li> Запрещённый для бега район</li> <li> Запрещённый маршрут</li> <li> Пункт первой помощи</li> <li> Пункт питания</li> <li> Узкая, медленная лыжня 0,6 м (1 след "Бурана")</li> <li> Средняя, быстрая лыжня 1-1,2 м (1,5 - 2 следа "Бурана")</li> <li> Широкая, скоростная лыжня 1,5-2 м (2,5 - 3 следа "Бурана")</li> <li> Накатанная площадь</li> <li> Дорога, непригодная для движения (без снега)</li> </ul>
---	--	--	--



# ЗАДАНИЕ №3 (Б)

## Практическое задание, ориентирование на местности (п. Дубовое)



**Найди контрольный пункт, запиши букву, собери слово! Будь внимателен!**

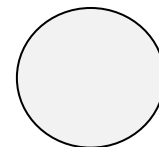
<b>1</b>	<b>2</b>	<b>3</b>	<b>4</b>	<b>5</b>	<b>6</b>

--	--	--	--	--	--

**Берегите природу!  
Не оставляйте мусор в лесу!**

## ЗАДАНИЕ №4

### Загадки «Растительный мир» (п. Дубовое)




<p>Я из крошки-бочки вылез, Корешки пустил и вырос, Стал высок я и могуч, Не боюсь ни гроз, ни туч.</p> <p>_____</p>	<p>По весне белым шаром цвела. А когда пора настала, Мигом сделалась она Вся от ягоды черна.</p> <p>_____</p>	<p>Клейкие почки, Зелёные листочки. С болей корой Стоит под горой</p> <p>_____</p>
<p>Если стебель отломить, Руки трудно уж отмыть! Желтый сок в листочках, В маленьких цветочках –</p> <p>_____</p>	<p>Поранил ты в походе ногу, Усталость не даёт идти – Нагнись: солдатик у дороги Готов помочь тебе в пути.</p> <p>_____</p>	<p>Куст колючий, словно ёж, С дикой розой сильно схож. Внутри ягод, как в ларце, Клад из витамина С.</p> <p>_____</p>
<p>Такого модника как этот Ещё не видела земля, Он очень любит среди лета В пуховой шапке щеголять.</p> <p>_____</p>	<p>Пахучим сладким цветом Каждый год цветёт. И мед свой жарким летом Пчелам отдаешь.</p> <p>_____</p>	<p>Кто не прикасается, За того цепляется. Привязчивый и колкий, Кругом торчат иголки.</p> <p>_____</p>

## ЗАДАНИЕ №5


### Краеведческий тест (п. Ракитное)

Выбери верный ответ




<p>1. Что изображено на гербе Ракитянского района?</p> <p>а) два дуба б) ива в) две ракиты</p>	<p>4. Назовите выдающегося священнослужителя, чья жизнь и служение были неразрывно связаны с п. Ракитное</p> <p>а) епископ Иоасаф (Горленко) б) епископ Никодим (Кононов) в) архимандрит Серафим (Тяпочкин)</p>
<p>2. В 1729 году указом Петра I Ракитянские земли были пожалованы:</p> <p>а) князю Трубецкому б) князю Галицкому в) князю Юсупову</p>	<p>5. На территории Юсуповского дворца сохранилось дерево-долгожитель, исполняющее желания</p> <p>а) тополь б) дуб в) сосна</p>
<p>3. Храм построенный в п. Ракитное в 1832 году</p> <p>а) Свято-Никольский б) Успенско-Николаевский в) Свято-Троицкий</p>	<p>6. Как называется музей в п. Ракитное, который возвращает в прошлое</p> <p>а) «Давай вернемся» б) «Назад в СССР» в) «Путешествие в прошлое»</p>

**ЗАДАНИЕ №6**  
**Краеведческое ЛОТО (п. Ракитное)**  
**«Наследие Юсуповых»**  
 Переставь слоги в записях так,  
 чтобы получились верные словосочетания



<b>СУПОВЮСКИЙ РЕЦДВО</b>	
<b>ЛЕЗНАЖЕЯ РОГАДО</b>	
<b>ТОСВЯ – ЕЛАКОНИВСКИЙ МАХР</b>	
<b>КАСКАДНЫЕ ДЫПРУ</b>	
<b>ХАРНЫЙСА ВОДЗА</b>	
<b>СУНАКОНЯ КАБРИФА</b>	
<b>БОДАСЛО НОКИТРАЕ</b>	

**ЗАДАНИЕ №7**  
**Определение по схеме объектов Холковского Монастыря**

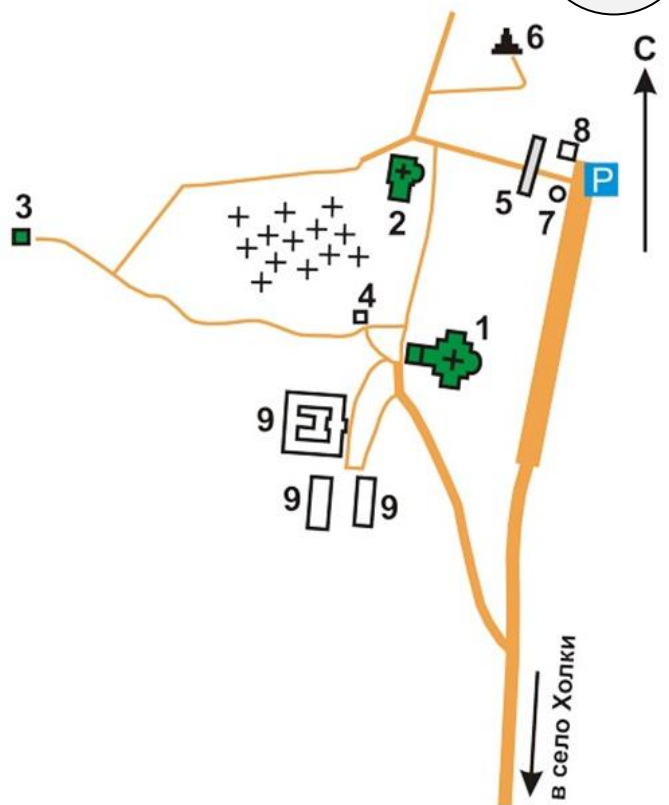


Храмы монастыря:

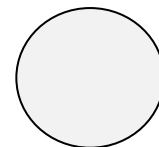
1. \_\_\_\_\_
2. \_\_\_\_\_
3. \_\_\_\_\_


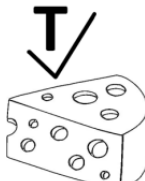


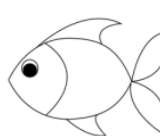



Другие объекты монастыря:

4. \_\_\_\_\_
5. \_\_\_\_\_
6. \_\_\_\_\_
7. \_\_\_\_\_
8. \_\_\_\_\_
9. \_\_\_\_\_



**ЗАДАНИЕ №8**  
**Ребусы (с. Холки)**




<p><b>М</b>””   <b>Ь</b></p> <p>_____</p>	<p>”  <b>А Н</b> ” </p> <p>_____</p>
<p><sup>3 2 1</sup> <b>ЩЕПА</b> <b>Е</b>  ”</p> <p>_____</p>	<p>  ” </p> <p><del>Е К</del> Р=Д</p> <p>_____</p>

**ЗАДАНИЕ №9**


**Викторина «Верю – не верю» (г. Короча)**

Если утверждение является верным – ставим +, не верным –



<i>Утверждение</i>	+/-
Короча - «второй Крым».	
Корочанский район самый северный район нашей области.	
Одним из символов Корочи являются яблоки.	
В Короче есть храм Пресвятой Богородицы.	
Родник в Короче называется «Ясный колодец».	
В Короче протекает река Оскол.	
Город Короча был крепостью.	
Короча – родина великого актёра М.С.Щепкина	
В районе города Короча протекает река Везёлка.	
Через Корочу проходит железная дорога Москва – Симферополь.	
Вестовой колокол был подарен Короче в 1674 году.	


**ЗАДАНИЕ №10**  
**Вставь пропущенные слова (г. Короча)**



Над храмом возвышается к \_\_\_\_\_ изображающий небо. На куполе ставится к \_\_\_\_\_ во славу главы Церкви – Иисуса Христа. Над входом в храм строится к \_\_\_\_\_ – башня с колоколами. Колокольный звон созывает верующих на богослужение. Зайдя в храм, мы сначала попадаем в притвор, затем в сам храм или среднюю часть храма, где стоят молящиеся. И видим перед собой иконостас – перегородку, за которой находится главная часть храма – а \_\_\_\_\_.

В алтаре молятся священнослужители, через которых нам подается б \_\_\_\_\_ (помощь) Божия.

**ЗАДАНИЕ №11**  
**Установи соответствие**  
**(с. Сухаревка. Храмовый комплекс)**



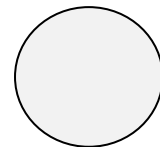
Храм Рождества Иоанна ...		Магдалины
Часовню Святой равноапостольной Марии ...		Предтечи
Храмовый комплекс «Град Новый ...»		Помазания
Камень, источающий миро ...		Иерусалим
Гробница Иисуса Христа ...		Державная
Часовню иконы Божией Матери «...»		Голгофа
Святая купель Апостола Иоанна ...		Кувуклия
Место страдания Иисуса Христа ...		Богослова

## ЗАДАНИЕ №12

с. Сухаревка. Храмовый комплекс «Новый Иерусалим»

Обозначь цифрами части храма:

1 – крест, 2 – купол, 3 – яблоко, 4 – шатёр, 5 – световой барабан,  
6 – закомора, 7 – портал



**Поделись своими впечатлениями и эмоциями  
от экскурсии:**

1. Выполни творческую работу на тему экскурсии (сочинения, рисунок, поделка).
2. Выполни исследовательскую или проектную работу по заинтересовавшей тебя теме.
3. Зайди по ссылкам в группы (<https://vk.com/belcdtur>, <https://vk.com/belcdtur31>, [https://vk.com/bel\\_turizm](https://vk.com/bel_turizm)), напиши отзыв об экскурсии и прикрепи фото или селфи, которое тебе понравится больше всего.

